

ΟΜΑΔΑ ΑΡΧΙΤΕΚΤΟΝΩΝ-ΠΟΛΕΟΔΟΜΩΝ: ΦΥΛΛΟ ΕΡΓΑΣΙΑΣ 1

Τίτλος δραστηριότητας: Κτίσματα της Κωνσταντινούπολης

Ξαναθυμάμαι και απαντώ

1. Γιατί η Κωνσταντινούπολη ονομαζόταν «επτάλοφη»;

.....
.....
.....
.....

2. Ποια οικοδομήματα κατασκεύασε ο Μέγας Κωνσταντίνος;

.....
.....
.....

3. Ποιο ήταν το πρότυπο, σύμφωνα με το οποίο κτίστηκε ο Ιππόδρομος της Κωνσταντινούπολης;

.....
.....
.....

4. Ποιος είναι ο αρχιτεκτονικός ρυθμός του ναού της Αγίας Σοφίας και από πού προήλθε;

.....
.....
.....

5. Πώς ονομαζόταν ο σημαντικότερος δρόμος της Κωνσταντινούπολης. Τι μπορούσε να δει κανείς δεξιά και αριστερά από το δρόμο αυτό;


.....
.....
.....

6. Εκτός από την κατοικία του αυτοκράτορα και της οικογένειάς του, ποια κτήρια ακόμα περιλάμβανε το ιερό παλάτι;

.....
.....
.....

ΟΜΑΔΑ ΑΡΧΙΤΕΚΤΟΝΩΝ – ΠΟΛΕΟΔΟΜΩΝ: ΦΥΛΛΟ ΕΡΓΑΣΙΑΣ 2**Τίτλος δραστηριότητας: Παλάτια και ναοί της Κωνσταντινούπολης****Ερευνώ και εξηγώ**

1. Ποια τείχη συναντούσαν οι ταξιδιώτες που έφταναν στην Κωνσταντινούπολη από την Εγνατία οδό;

Για την απάντησή σας επισκεφθείτε την ελεύθερη εγκυκλοπαίδεια Wikipedia, στην ηλεκτρονική διεύθυνση (Φεβρουάριος 2008): <http://el.wikipedia.org/wiki> και γράψτε στην Αναζήτηση τις λέξεις «Εγνατία οδός». Παρατηρήστε την κατεύθυνση που έχει και στη συνέχεια δείτε στην ηλεκτρονική έκδοση της εφαρμογής (index) το σενάριο 1. Επιλέξτε το εικονίδιο  και κατόπιν, στο λήμμα «Εικόνες και χάρτες», το τοπογραφικό διάγραμμα της Κωνσταντινούπολης.

.....

.....

.....

.....

2. Παρατηρήστε το τοπογραφικό διάγραμμα της Κωνσταντινούπολης στην ηλεκτρονική έκδοση της εφαρμογής, όπως προηγουμένως, στο λήμμα «Εικόνες και χάρτες». Ποιους φόρους (πλατείες) συναντάτε, πηγαίνοντας από τα ανατολικά στα δυτικά;


.....

.....

.....

.....

3. Τυπώστε την εικόνα του φόρου του Κωνσταντίνου. Ποιο ήταν το κτήριο με το θόλο που υπάρχει στην εικόνα;

Για την απάντησή σας επισκεφθείτε το δικτυακό τόπο του μη κερδοσκοπικού προγράμματος Byzantium 1200. Η ηλεκτρονική του διεύθυνση είναι (Φεβρουάριος 2008): <http://www.byzantium1200.com/contents.html>. Στη συνέχεια επιλέξτε τον αριθμό 23 (FORUM OF CONSTANTINE). Επίσης, δείτε στην ηλεκτρονική έκδοση της εφαρμογής (index) το σενάριο 1. Επιλέξτε το εικονίδιο  και κατόπιν το λήμμα «Κωνσταντινούπολη». Διαβάστε το κείμενο «Ο φόρος του Κωνσταντίνου».


.....

.....

.....

.....

4. Τυπώστε την εικόνα του ιπποδρόμου της Κωνσταντινούπολης. Πώς επικοινωνούσε με τα ανάκτορα και γιατί γινόταν αυτό;

Για την απάντησή σας επισκεφθείτε το μη κερδοσκοπικό πρόγραμμα Byzantium 1200 στην ηλεκτρονική διεύθυνση (Φεβρουάριος 2008): www.byzantium1200.com/contents.html και επιλέξτε τον αριθμό 19 (COVERED HIPPODROME). Επίσης, δείτε στην ηλεκτρονική έκδοση της εφαρμογής (index) το σενάριο 1. Επιλέξτε το εικονίδιο  και μετά το λήμμα «Κωνσταντινούπολη». Διαβάστε το κείμενο «Ο Ιππόδρομος της Κωνσταντινούπολης».


.....

.....

.....

.....

5. *Τυπώστε την εικόνα του Ζεύξιππου. Τι σχήματα είχαν τα κτήριά του; Τι υπήρχε στην αυλή του; Ποια ήταν η χρήση του;*

Για την απάντησή σας το δικτυακό τόπο του μη κερδοσκοπικού προγράμματος Byzantium 1200. Η ηλεκτρονική του διεύθυνση είναι (Φεβρουάριος 2008): www.byzantium1200.com/contents.html. Στη συνέχεια επιλέξτε τον αριθμό 62 (ΖΕΥΧΙΡΡΟΣ). Επίσης, στην ηλεκτρονική έκδοση (index) της εφαρμογής επιλέξτε το εικονίδιο  και μετά το λήμμα «Κωνσταντινούπολη». Διαβάστε το κείμενο «Ζεύξιππος».


.....

.....

.....

.....

6. *Τυπώστε την εικόνα του Αυγουσταίου. Ως τι χρησίμευε το Αυγουσταίο και πώς θα περιγράφατε την εικόνα του;*

Για την απάντησή σας επισκεφθείτε το δικτυακό τόπο του μη κερδοσκοπικού προγράμματος Byzantium 1200. Η ηλεκτρονική του διεύθυνση είναι (Φεβρουάριος 2008): <http://www.byzantium1200.com/contents.html>. Στη συνέχεια επιλέξτε τον αριθμό 7 (ΑΥΓΟΥΣΤΑΙΟΝ). Επίσης, στην ηλεκτρονική έκδοση (index) της εφαρμογής επιλέξτε το εικονίδιο  και μετά το λήμμα «Κωνσταντινούπολη». Διαβάστε το κείμενο «Αυγουσταίον».

.....

.....

.....

.....

7. *Τυπώστε το παλάτι του Βουκολέοντος. Πόσους ορόφους είχε; Να περιγράψετε την είσοδο και τα παράθυρά του.*

Για την απάντησή σας επισκεφθείτε το δικτυακό τόπο του μη κερδοσκοπικού προγράμματος Byzantium 1200. Η ηλεκτρονική του διεύθυνση είναι (Φεβρουάριος 2008): www.byzantium1200.com/contents.html. Στη συνέχεια επιλέξτε τον αριθμό 10 (ΒΟΥΚΟΛΕΟΝ PALACE).


.....

.....

.....

.....

8. *Τυπώστε την εικόνα του υδραγωγείου του Ουάλεντος. Σε τι χρησίμευε;*

Για την απάντησή σας επισκεφθείτε το μη κερδοσκοπικό πρόγραμμα Byzantium 1200 στην ηλεκτρονική διεύθυνση (Φεβρουάριος 2008): www.byzantium1200.com/contents.html και επιλέξτε τον αριθμό 3 (AQUAEDUCT OF VALENS). Επίσης, δείτε στην ηλεκτρονική έκδοση της εφαρμογής (index) το σενάριο 1. Επιλέξτε το εικονίδιο  και μετά το λήμμα «Κωνσταντινούπολη». Διαβάστε το κείμενο «Το Υδραγωγείο του Ουάλεντα».

.....

.....

.....

.....